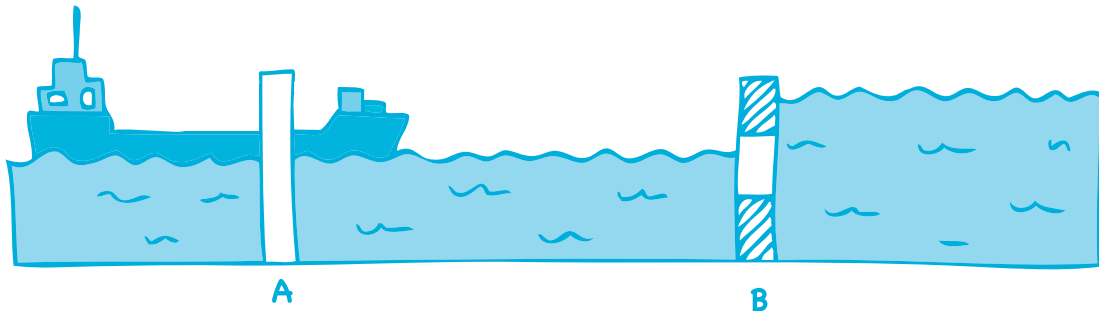




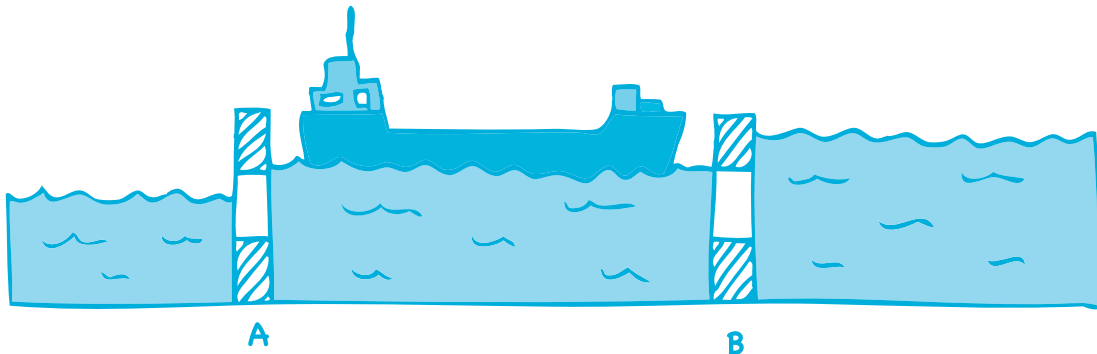
L'eau et les transports : l'écluse

1. Lors de ta croisière sur la rivière, tu as passé une écluse. On t'a expliqué le fonctionnement de l'écluse. Réponds en une phrase à la question suivante : à quoi sert une écluse ?


2. Complète la légende du schéma :



La porte A est _____
La porte B est _____
La péniche _____ dans l'écluse.



La porte A est _____
La porte B est _____. L'écluse se remplit
La péniche _____.



La porte A est _____
La porte B est _____. L'écluse est pleine
La péniche _____.